



Problema Mensual Preescolar



¡Ubícame!



Soy un medio de transporte.
No me desplazo por el aire.
Me desplazo hacia la derecha.
No me desplazo por el agua.
Poseo cuatro llantas.
¿Dónde estoy?

Problema Mensual Primaria

Galletas de Navidad



En una caja de galletas de motivos navideños vienen 24 unidades. Uno de los días de la novena tres niños abrieron la caja y comenzaron a disfrutarlas.

Alba, a quien no le gusta mucho el azúcar, comió algunas galletas. Rocío comió el doble de galletas que comió Alba. Jorge, el más glotón de los tres, comió el doble de las galletas que comió Rocío.

Si quedan tres galletas en la caja, cuántas galletas comió cada uno?

Problema Mensual Secundaria

Rectángulos



Dos rectángulos de $80 \text{ cm} \times 60 \text{ cm}$ se superponen como se muestra en la figura.

Determine cuál área es mayor:
¿la del triángulo $\triangle ACI$ o la del cuadrilátero $FGHI$?

