










Problema Mensual Preescolar

Tabla Aditiva



Dibuja el número correspondiente de peces en cada acuario.





Tomás encontró en el baúl en el que se conservan algunos de los recuerdos de sus abuelos un libro muy viejo con la carátula desprendida y las hojas muy amarillas.

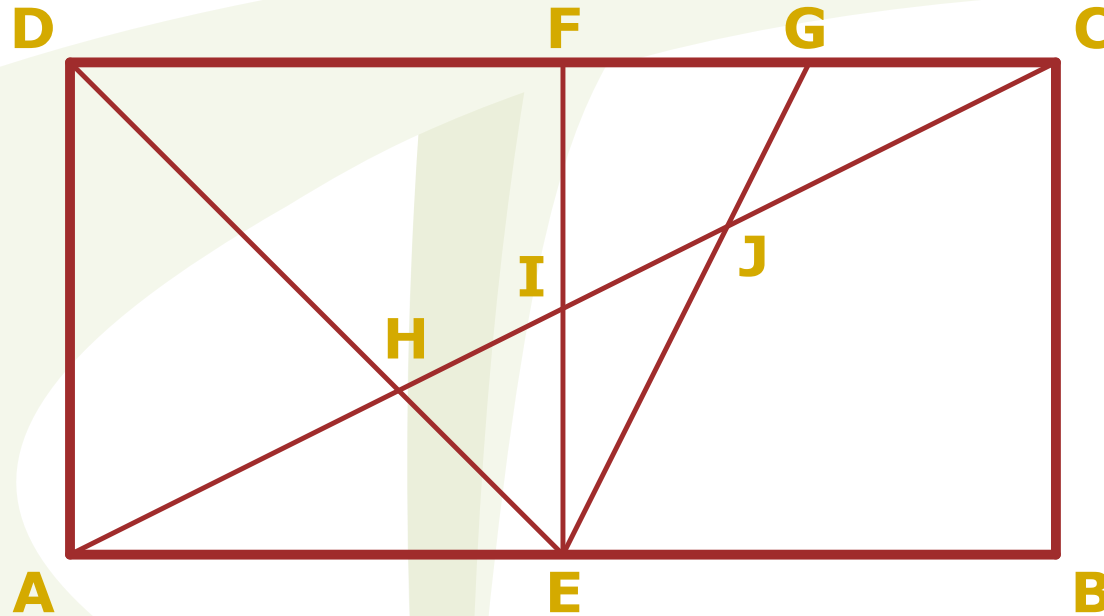
Al examinarlo observó que le faltaban hojas pues saltaba de la página 36 a la página 81.

¿Puedes averiguar cuántas hojas le hacían falta al libro?



Problema Mensual Secundaria

Cuadrilátero



ABCD es un rectángulo cuyos lados están en la razón **1:2**.

E punto medio de \overline{AB} ; **F** punto medio de \overline{CD} ;

G punto medio de \overline{CF} .

Determine la naturaleza del $\triangle E J H$.