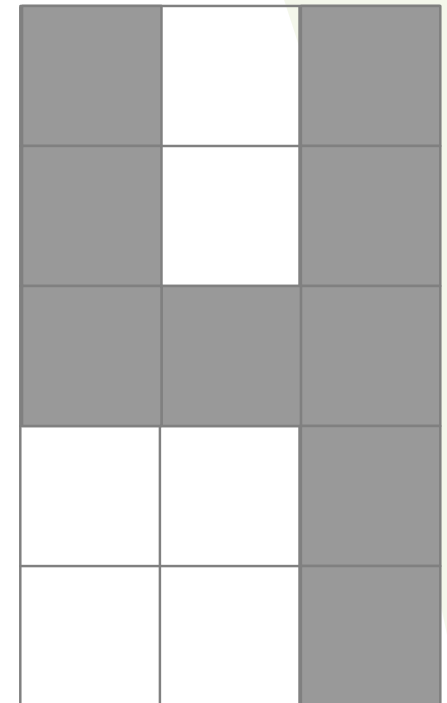
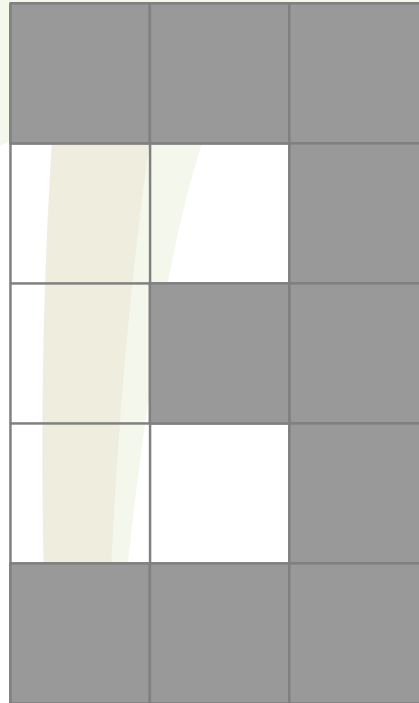



Gustavo afirmó que para convertir el '3' en '4' debía cambiar de color cinco casillas.

¿Es esto cierto?



- **Chester da seis vueltas alrededor de la letra F.**
- **Rufo da cuatro vueltas alrededor de la letra H.**
- **Fito da cinco vueltas alrededor de la letra C.s**



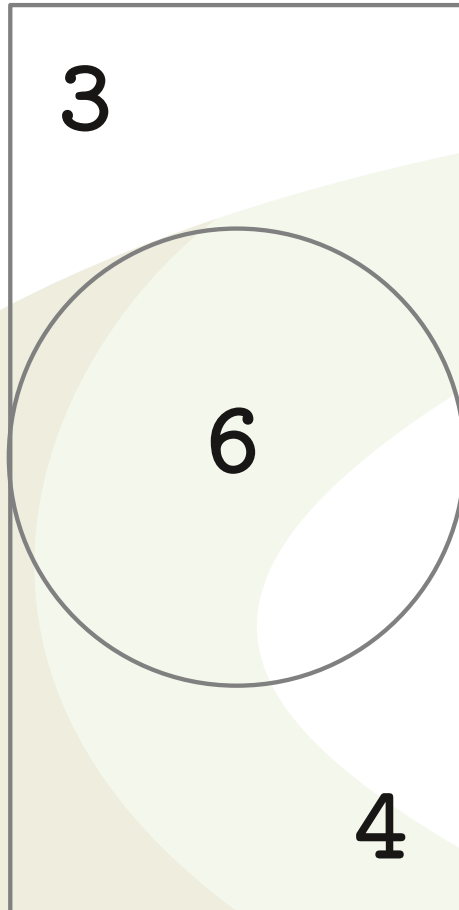
¿Cuál de los tres hace el recorrido más largo?

Dos conejos, uno blanco y otro negro, pesan juntos 1200 gr.

El conejo negro pesa 50 gr más que el blanco.



¿Cuántos gr pesa cada conejo?




Se lanzan dos dardos al tablero.

¿Cuántos resultados diferentes es posible obtener?

Es posible que los dardos caigan fuera del tablero.

**¿Cuántos cuadrados
se pueden formar de
manera que sus
vértices sean puntos
del arreglo?**



Alpha-Italy

$$\begin{array}{r} \text{U N O} \\ + \text{U N O} \\ \hline \text{T R E} \end{array}$$

**U<R primos
consecutivos**

ABCD cuadrado de lado a .

**Determine la razón del
área sombreada al área
no sombreada.**

