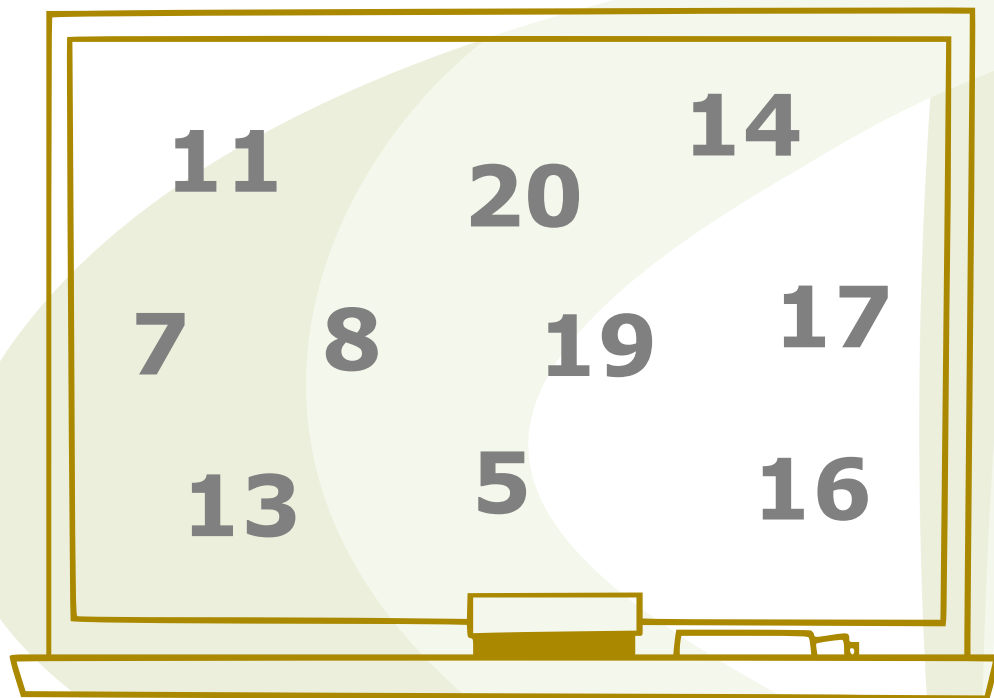



Problema Mensual Preescolar

Números



- Encierra con un triángulo el menor número par.
- Encierra con un círculo el mayor número impar.
- Encierra con un cuadrado el número que es igual a $10 - 5$.
- Encierra con un rectángulo el número que es igual al doble de 7.
- Encierra con un rombo el número que es igual a $4 + 4 + 4 + 4$.



triángulo



cuadrado



rectángulo



círculo



rombo

Problema Mensual Primaria


Corral



En un corral podemos encerrar o **180 vacas** o **300 terneros**.

Hoy hay en este corral **120 vacas**.

¿Cuántos terneros podemos encerrar para que el corral esté ocupado completamente?



Problema Mensual Secundaria

Cuadrilátero



Determine el
perímetro y el área
del cuadrilátero
ABCD.

