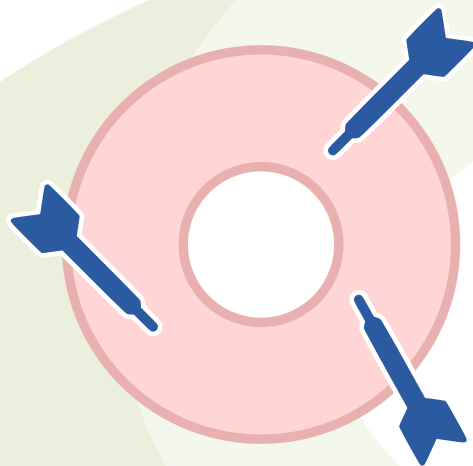


Problema Mensual Preescolar

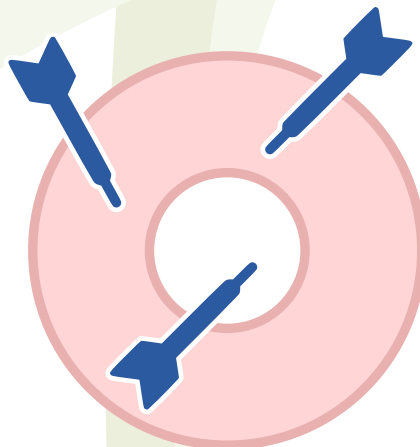
Blanco



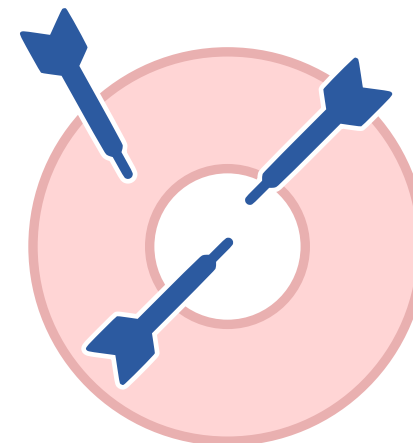
Mariana, Nancy y Olga lanzan cada una tres dardos y los dardos caen en las regiones indicadas.



Mariana
9 puntos



Nancy
10 puntos



Olga

¡Descubre el puntaje que obtuvo Olga!

Problema Mensual Primaria

El Álbum de Animales



Jaime, Juliana y Jacinto están llenando el álbum de animales.

Jaime y Juliana tienen juntos 30 láminas.

Jaime le dice a Juliana: **“Si me das tres de tus láminas, ambos tendremos el mismo número.”**

Jacinto le dice a Jaime: **“Si yo te doy cuatro de mis láminas, ambos tendremos el mismo número.”**

¿Cuántas láminas tiene Jacinto?

¿Cuántas láminas tienen los tres juntos?




Problema Mensual Secundaria

Camino



En un lote rectangular de $96 \text{ m} \times 28 \text{ m}$ se ha trazado un camino de anchura constante.



Si $BE = 7 \text{ cm}$, determine:

- el ancho del camino;
- la longitud de \overline{DF} ;
- el perímetro del $\triangle ECF$;
- la longitud de la diagonal del rectángulo $ABCD$.