

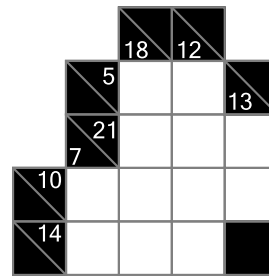
Institución

Nombre

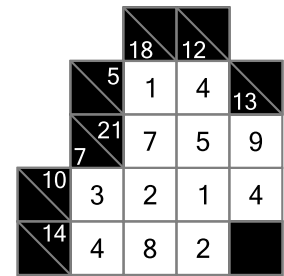
Grado

# Kakuro

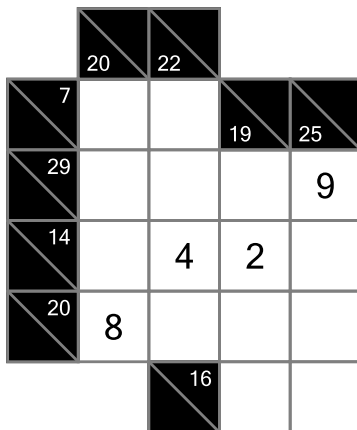
Ubica en cada casilla vacía un dígito de 1 a 9, de tal manera que el número debajo de una diagonal corresponda a la suma de los números ubicados debajo de él y el número encima de una diagonal corresponda a la suma de los números ubicados a la derecha de él. En ninguna serie de casillas consecutivas se puede repetir dígito.



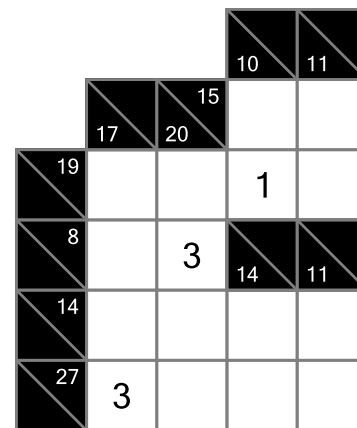
Problema



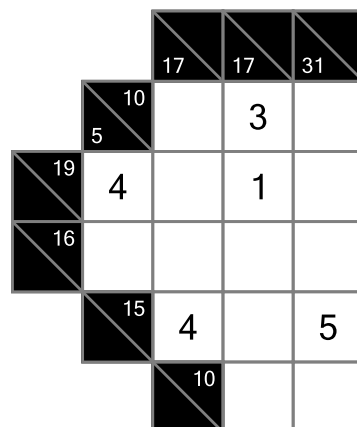
Solución



I.



II.



III.