




Problema Mensual Preescolar

Regiones




Escribe en cada círculo el número de cuadrados como este  que recomponen la región correspondiente.



Problema Mensual Primaria

Caminata por la Alameda



Ayer salimos a caminar por una alameda muy larga poblada de árboles altos y frondosos que nos protegían con sus ramas de los fuertes rayos del sol. Sobre cada costado del camino estaban sembrados doscientos árboles, cada uno a quince metros del siguiente. Cuando llegamos al final de la alameda descansamos, tomamos nuestro almuerzo y luego regresamos por el mismo camino. En total, gastamos seis horas.



¿Es cierto que
caminamos en total
seis kilómetros?

Problema Mensual Secundaria

Polígonos



Demuestre que el polígono sombreado es semejante al cuadrilátero **ABCD**.

